


L'EVOLUZIONE DELL'UOMO



Rifletti e segna con una X la risposta esatta.

1. Come furono chiamati i primi esseri simili all'uomo?

Primitivi

Ominidi

2. Come vivevano?

Da soli

In gruppi

3. Di cosa si cibavano?

Di cibi cotti

Di quello che offriva la natura

4. In quale continente sono stati trovati resti fossili di Australopiteco?

Africa

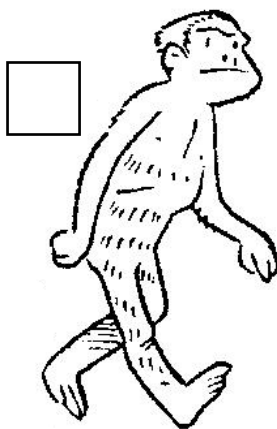
Australia

5. Chi era Lucy?

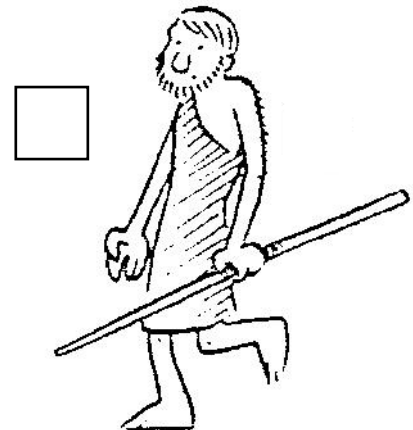
La regina delle scimmie

Un individuo femmina

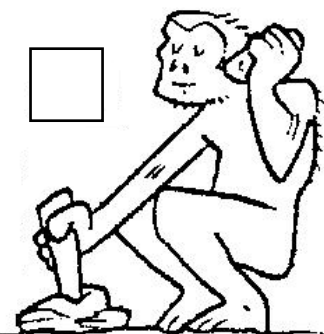
⌚ Metti in ordine cronologico gli uomini primitivi, numerandoli.



AUSTRALOPITECO




HOMO SAPIENS



HOMO HABILIS



HOMO SAPIENS SAPIENS



HOMO ERECTUS